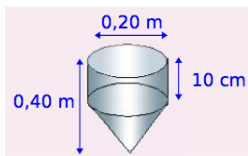


Exercice n° 1

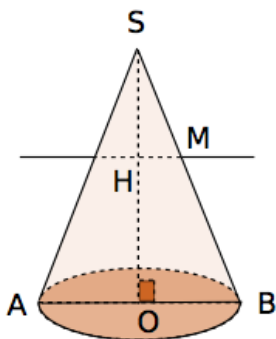
Rappeler les formules du périmètre d'un cercle ; de l'aire d'un triangle ; de l'aire d'un parallélogramme et du volume d'un cylindre de révolution.

Exercice n° 2



Un pluviomètre est constitué d'une partie cylindrique surmontant une partie conique. Calculer le volume d'eau qu'il peut recevoir. Donner la valeur arrondie au dL.

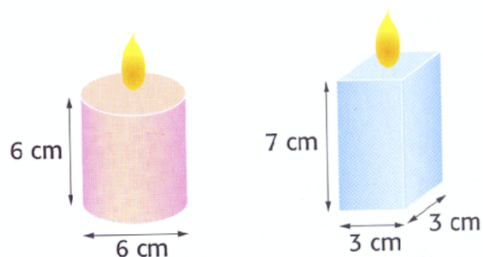
Exercice n° 3



On considère le cône tel que $OB = 7$ cm, $SB = 25$ cm.

- Calculer le volume de ce cône. Donner la valeur exacte puis un arrondi au cm^3 près.
- Soit M un point de la génératrice $[SB]$ tel que $SM = 10$ cm. On trace une droite parallèle à (OB) passant par M , elle coupe $[SO]$ en H . Calculer HM et SH .

Exercice n° 4



Un artisan fabrique des bougies de deux sortes, l'une de forme cylindrique, l'autre en forme de pavé droit.

- Calcule le volume de cire nécessaire pour réaliser une bougie en forme de pavé droit.

- Calcule le volume de cire nécessaire pour réaliser une bougie de forme cylindrique. Donner la valeur exacte et un arrondi au mm^3 .
- L'artisan reçoit une commande de 300 bougies de forme cylindrique et de 250 bougies en forme de pavé droit. De combien de litres de cire a-t-il besoin ?

Exercice n° 5



figure 1

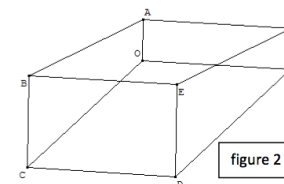


figure 2

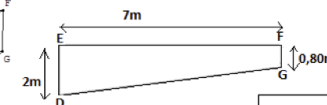


figure 3

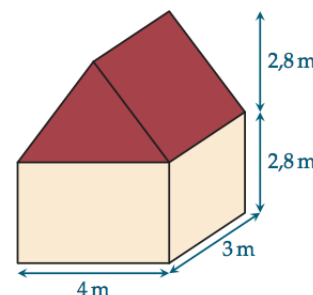
Une piscine rectangulaire de 7 m sur 3 m a la forme d'un prisme droit dont la base est un trapèze (figure 3).

On a $AB = 7$ m et $AF = 3$ m.

- Si la piscine est rempli au maximum, combien de litres d'eau peut-elle contenir ?
- Sachant qu'il faut une heure pour remplir 1 m^3 d'eau, combien de temps mettra-t-il pour mettre 30 000 litres d'eau dans sa piscine ?

Exercice Bonus

Voici le plan d'un abri de jardin :

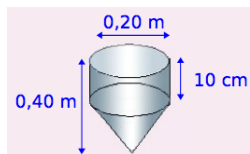


- Si on veut repeindre les 4 murs, quelle surface cela représente-t-il ?
- Quel est le volume de cet abri ?

Exercice n° 1

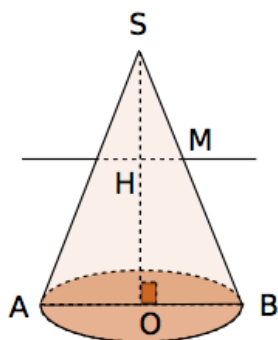
Rappeler les formules de l'aire d'un losange ; du périmètre d'un cercle ; de l'aire d'un parallélogramme et du volume d'un cône de révolution.

Exercice n° 2



Un pluviomètre est constitué d'une partie cylindrique surmontant une partie conique. Calculer le volume d'eau qu'il peut recueillir. Donner la valeur arrondie au dL.

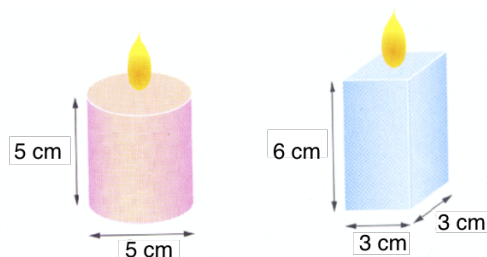
Exercice n° 3



On considère le cône tel que $OB = 20$ cm, $SB = 29$ cm.

- Calculer le volume de ce cône. Donner la valeur exacte puis un arrondi au cm^3 près.
- Soit M un point de la génératrice $[SB]$ tel que $SM = 11,6$ cm. On trace une droite parallèle à (OB) passant par M , elle coupe $[SO]$ en H . Calculer HM et SH .

Exercice n° 4



Un artisan fabrique des bougies de deux sortes, l'une de forme cylindrique, l'autre en forme de pavé droit.

- Calcule le volume de cire nécessaire pour réaliser une bougie en forme de pavé droit.

- Calcule le volume de cire nécessaire pour réaliser une bougie de forme cylindrique. Donner la valeur exacte et un arrondi au mm^3 .
- L'artisan reçoit une commande de 300 bougies de forme cylindrique et de 250 bougies en forme de pavé droit. De combien de litres de cire a-t-il besoin ?

Exercice n° 5



figure 1

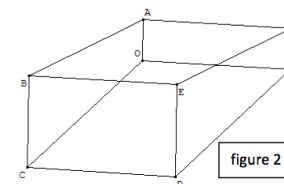


figure 2

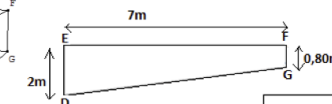


figure 3

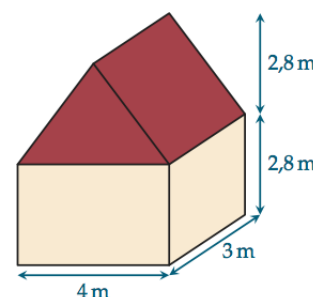
Une piscine rectangulaire de 7 m sur 5 m a la forme d'un prisme droit dont la base est un trapèze (figure 3).

On a $AB = 7$ m et $AF = 5$ m.

- Si la piscine est rempli au maximum, combien de litres d'eau peut-elle contenir ?
- Sachant qu'il faut une heure pour remplir 1 m^3 d'eau, combien de temps mettra-t-il pour mettre 30 000 litres d'eau dans sa piscine ?

Exercice Bonus

Voici le plan d'un abri de jardin :



- Si on veut repeindre les 4 murs, quelle surface cela représente-t-il ?
- Quel est le volume de cet abri ?

Exercice n° 1

$$P_{\text{cercle}} = 2\pi R; A_{\text{triangle}} = \frac{a \times b}{2}; A_{\text{parallélogramme}} = b \times h; V_{\text{cylindre}} = \pi \times R^2 \times h.$$

Exercice n° 2

$$0,20 \text{ m} = 20 \text{ cm et } 0,40 \text{ m} = 40 \text{ cm}$$

$$V_{\text{cylindre}} = \pi \times R^2 \times h = \pi \times 10^2 \times 10 = 1\,000 \pi \text{ cm}^3$$

$$V_{\text{cône}} = \frac{\pi \times R^2 \times h}{3} = \frac{\pi \times 10^2 \times 30}{3} = 1\,000 \pi \text{ cm}^3$$

$$V_{\text{pluviomètre}} = V_{\text{cylindre}} + V_{\text{cône}} = 2\,000 \pi$$

$$V_{\text{pluviomètre}} \approx 6\,283 \text{ cm}^3 \approx 6,3 \text{ L}$$

Exercice n° 3

1. Pour calculer le volume de ce cône, il nous faut connaître sa hauteur.

Dans le triangle SOB rectangle en O , j'écris l'égalité de Pythagore :

$$SB^2 = SO^2 + OB^2 \quad \text{soit} \quad SO^2 = SB^2 - OB^2$$

$$SO^2 = 25^2 - 7^2 = 576 \quad \text{soit} \quad SO = \sqrt{576} = 24$$

$$V_{\text{cône}} = \frac{\pi \times R^2 \times h}{3} = \frac{\pi \times 7^2 \times 24}{3} = 392 \pi$$

$$V_{\text{cône}} \approx 1\,232 \text{ cm}^3$$

2. Dans le triangle SOB , on a :

- $H \in [SO]$
- $M \in [SB]$
- $(HM) \parallel (OB)$

$$\text{D'après la propriété de Thalès : } \frac{SH}{SO} = \frac{SM}{SB} = \frac{HM}{OB}$$

$$\frac{SH}{24} = \frac{10}{25} = \frac{HM}{7}$$

$$SH = \frac{24 \times 10}{25} = 9,6 \text{ cm et } HM = \frac{7 \times 10}{25} = 2,8 \text{ cm.}$$

Exercice n° 4

$$1. V_{\text{pavé}} = L \times l \times h = 7 \times 3 \times 3 = 63 \text{ cm}^3$$

$$2. V_{\text{cylindre}} = \pi \times R^2 \times h = \pi \times 3^2 \times 6 = 54 \pi \approx 169,646 \text{ cm}^3$$

$$3. V = 300 \times V_{\text{cylindre}} + 250 \times V_{\text{pavé}} \approx 63\,494 \text{ cm}^3 \approx 63 \text{ L}$$

Exercice n° 5

1. La base de la piscine est un trapèze, son aire est :

$$A_{\text{trapèze}} = \frac{(B+b) \times h}{2} = \frac{(2+0,8) \times 7}{2} = 9,8 \text{ m}^2.$$

$$V_{\text{pavé}} = A_{\text{trapèze}} \times h = 9,8 \times 3 = 29,4 \text{ m}^3 = 29\,400 \text{ L}$$

2. $1 \text{ m}^3 = 1\,000 \text{ L}$. En un heure, on peut remplir $1\,000 \text{ L}$, il faut donc 30 heures pour les $30\,000 \text{ L}$.

Exercice bonus

1. Les 4 murs sont des rectangles.

$$A = 4 \times 2,8 + 3 \times 2,8 + 4 \times 2,8 + 3 \times 2,8 = 39,2 \text{ m}^2$$

2. On peut modéliser l'abri de jardin en 2 solides. Un pavé droit et un prisme droit.

$$V_{\text{pavé}} = L \times l \times h = 4 \times 3 \times 2,8 = 33,6 \text{ m}^3$$

$$V_{\text{prisme}} = A_{\text{base}} \times h = \frac{4 \times 2,8}{2} \times 3 = 16,8 \text{ m}^3$$

$$V_{\text{abri}} = V_{\text{pavé}} + V_{\text{prisme}} = 50,4 \text{ m}^3$$

Exercice n° 1

$$A_{\text{losange}} = \frac{D \times d}{2} \quad P_{\text{cercle}} = 2\pi R; \quad A_{\text{parallélogramme}} = b \times h; \quad V_{\text{cône}} = \frac{\pi \times R^2 \times h}{3}.$$

Exercice n° 2

$$0,20 \text{ m} = 20 \text{ cm et } 0,40 \text{ m} = 40 \text{ cm}$$

$$V_{\text{cylindre}} = \pi \times R^2 \times h = \pi \times 10^2 \times 10 = 1\,000 \pi \text{ cm}^3$$

$$V_{\text{cône}} = \frac{\pi \times R^2 \times h}{3} = \frac{\pi \times 10^2 \times 30}{3} = 1\,000 \pi \text{ cm}^3$$

$$V_{\text{pluviomètre}} = V_{\text{cylindre}} + V_{\text{cône}} = 2\,000 \pi$$

$$V_{\text{pluviomètre}} \approx 6\,283 \text{ cm}^3 \approx 6,3 \text{ L}$$

Exercice n° 3

1. Pour calculer le volume de ce cône, il nous faut connaître sa hauteur.

Dans le triangle SOB rectangle en O , j'écris l'égalité de Pythagore :

$$SB^2 = SO^2 + OB^2 \quad \text{soit} \quad SO^2 = SB^2 - OB^2$$

$$SO^2 = 29^2 - 20^2 = 441 \quad \text{soit} \quad SO = \sqrt{576} = 21$$

$$V_{\text{cône}} = \frac{\pi \times R^2 \times h}{3} = \frac{\pi \times 20^2 \times 21}{3} = 2\,800 \pi$$

$$V_{\text{cône}} \approx 8\,796 \text{ cm}^3$$

2. Dans le triangle SOB , on a :

$$- H \in [SO]$$

$$- M \in [SB]$$

$$- (HM) \parallel (OB)$$

$$\text{D'après la propriété de Thalès : } \frac{SH}{SO} = \frac{SM}{SB} = \frac{HM}{OB}$$

$$\frac{SH}{21} = \frac{11,6}{29} = \frac{HM}{20}$$

$$SH = \frac{21 \times 11,6}{29} = 8,4 \text{ cm et } HM = \frac{20 \times 11,6}{29} = 8 \text{ cm.}$$

Exercice n° 4

$$1. V_{\text{pavé}} = L \times l \times h = 6 \times 3 \times 3 = 54 \text{ cm}^3$$

$$2. V_{\text{cylindre}} = \pi \times R^2 \times h = \pi \times 2,5^2 \times 5 = 31,25 \pi \approx 98,175 \text{ cm}^3$$

$$3. V = 300 \times V_{\text{cylindre}} + 250 \times V_{\text{pavé}} \approx 42\,952 \text{ cm}^3 \approx 43 \text{ L}$$

Exercice n° 5

1. La base de la piscine est un trapèze, son aire est :

$$A_{\text{trapèze}} = \frac{(B+b) \times h}{2} = \frac{(2+0,8) \times 7}{2} = 9,8 \text{ m}^2.$$

$$V_{\text{pavé}} = A_{\text{trapèze}} \times h = 9,8 \times 5 = 49 \text{ m}^3 = 49\,000 \text{ L}$$

2. $1 \text{ m}^3 = 1\,000 \text{ L}$. En un heure, on peut remplir $1\,000 \text{ L}$, il faut donc 30 heures pour les $30\,000 \text{ L}$.

Exercice bonus

1. Les 4 murs sont des rectangles.

$$A = 4 \times 2,8 + 3 \times 2,8 + 4 \times 2,8 + 3 \times 2,8 = 39,2 \text{ m}^2$$

2. On peut modéliser l'abri de jardin en 2 solides. Un pavé droit et un prisme droit.

$$V_{\text{pavé}} = L \times l \times h = 4 \times 3 \times 2,8 = 33,6 \text{ m}^3$$

$$V_{\text{prisme}} = A_{\text{base}} \times h = \frac{4 \times 2,8}{2} \times 3 = 16,8 \text{ m}^3$$

$$V_{\text{abri}} = V_{\text{pavé}} + V_{\text{prisme}} = 50,4 \text{ m}^3$$