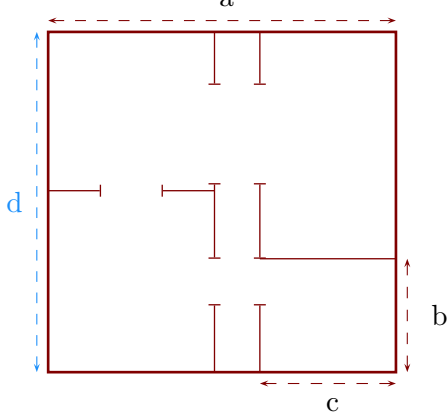


Exercice 1

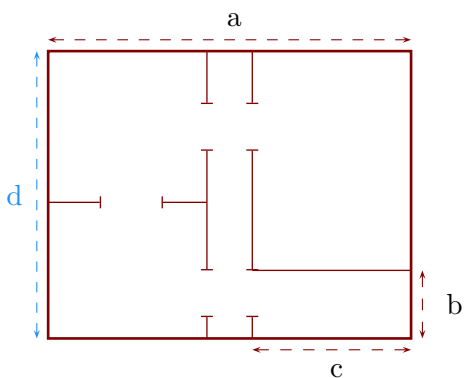
Sur ce plan, la longueur d mesure en réalité 18 m :



- 1. Déterminer l'échelle de ce plan.
- 2. Déterminer les longueurs réelles a , b et c .

Exercice 2

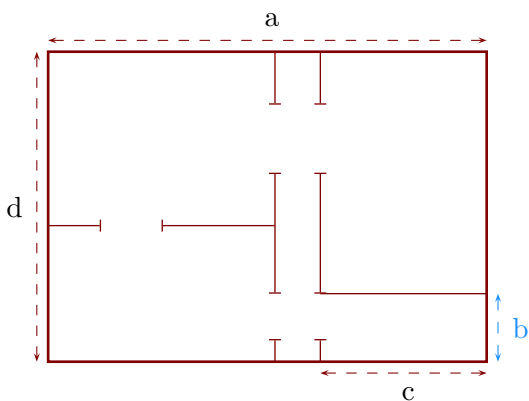
Sur ce plan, la longueur d mesure en réalité 3,8 m :



- 1. Déterminer l'échelle de ce plan.
- 2. Déterminer les longueurs réelles a , b et c .

Exercice 3

Sur ce plan, la longueur b mesure en réalité 6,75 m :



- 1. Déterminer l'échelle de ce plan.
- 2. Déterminer les longueurs réelles a , c et d .