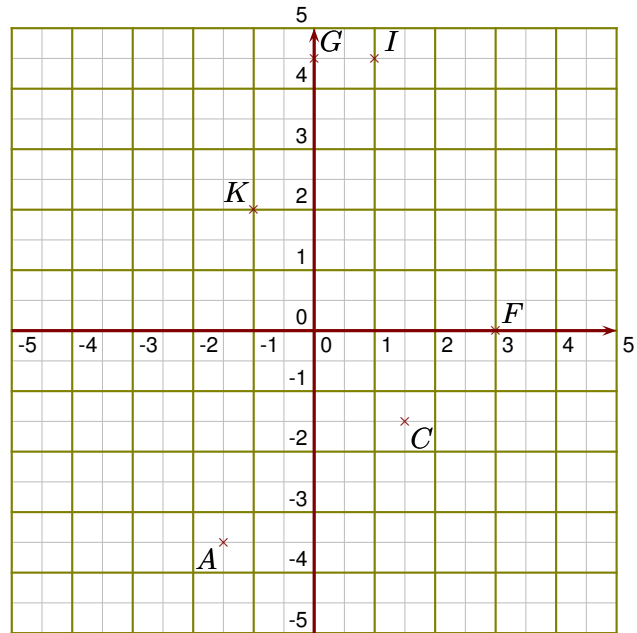
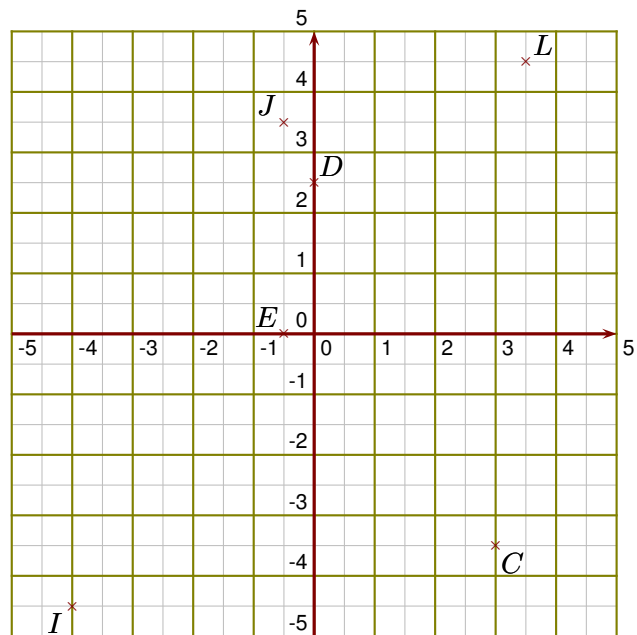


Exercice 1

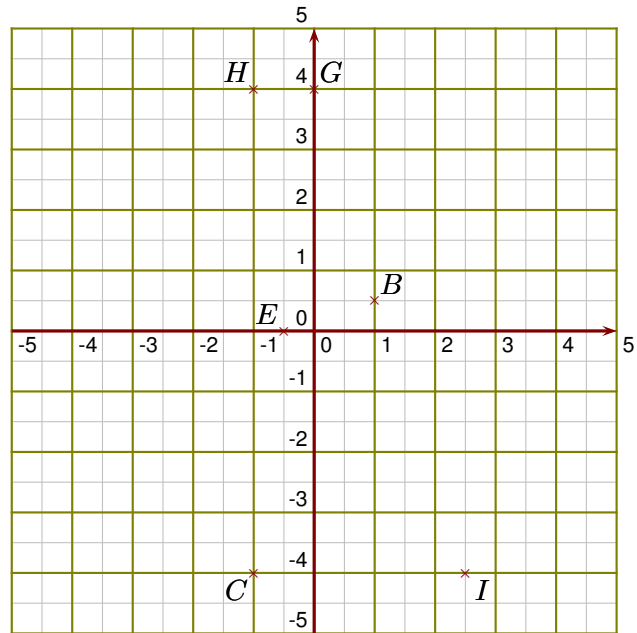
- ▶1. Donner les coordonnées des points A, C, F, G, I et K.
- ▶2. Placer dans le repère les points O, S, T, U, W et X de coordonnées respectives $(1 ; 0)$, $(-3 ; 1,5)$, $(3,5 ; 4)$, $(0 ; 0,5)$, $(-0,5 ; -2)$ et $(4 ; -3,5)$.
- ▶3. Placer dans le repère le point Y d'abscisse 4,5 et d'ordonnée 0,5

**Exercice 2**

- ▶1. Donner les coordonnées des points C, D, E, I, J et L.
- ▶2. Placer dans le repère les points N, O, P, R, T et U de coordonnées respectives $(0 ; -2)$, $(4,5 ; 4,5)$, $(-3,5 ; 4)$, $(-4,5 ; 0)$, $(4 ; -1)$ et $(-1 ; -1,5)$.
- ▶3. Placer dans le repère le point V d'ordonnée -3 et d'abscisse -3,5

**Exercice 3**

- 1. Donner les coordonnées des points B, C, E, G, H et I.
- 2. Placer dans le repère les points J, L, P, Q, R et S de coordonnées respectives $(-3 ; 0,5)$, $(0 ; -2)$, $(4,5 ; 0)$, $(-1 ; -1,5)$, $(4 ; 4,5)$ et $(0,5 ; -1)$.
- 3. Placer dans le repère le point T d'ordonnée $-4,5$ et d'abscisse $4,5$



Exercice 4

- 1. Donner les coordonnées des points A, B, D, F, H et I.
- 2. Placer dans le repère les points K, L, O, Q, R et T de coordonnées respectives $(0 ; -4)$, $(-4,5 ; -3,5)$, $(-3 ; 1)$, $(1,5 ; 0)$, $(0,5 ; -3)$ et $(1,5 ; 4)$.
- 3. Placer dans le repère le point Y d'abscisse 1 et d'ordonnée 2

