

Corrigé de l'exercice 1

Compléter les pointillés et les figures :

Phrase	Figure
$[MH]$ est un segment	
$[MP)$ est une demi-droite	
$[XC)$ est une demi-droite	
$[VB]$ est un segment	
(DT) est une droite	

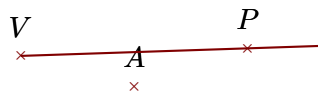
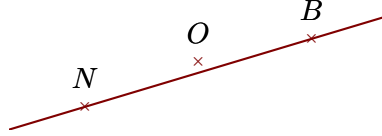
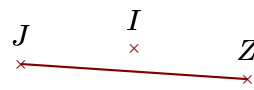
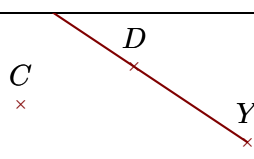
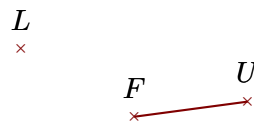
Corrigé de l'exercice 2

Compléter les pointillés et les figures :

Phrase	Figure
$[QW]$ est un segment	
$[EX)$ est une demi-droite	
$[XY]$ est un segment	
(HI) est une droite	
(GX) est une droite	

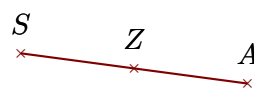
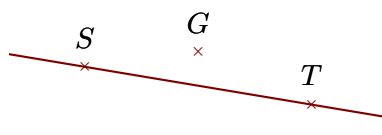
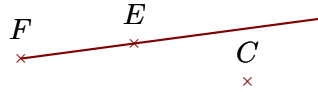
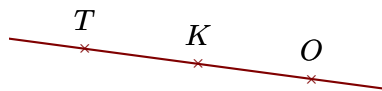
Corrigé de l'exercice 3

Compléter les pointillés et les figures :

Phrase	Figure
$[VP)$ est une demi-droite	
(NB) est une droite	
$[JZ]$ est un segment	
$[YD)$ est une demi-droite	
$[UF]$ est un segment	

Corrigé de l'exercice 4

Compléter les pointillés et les figures :

Phrase	Figure
$[AS]$ est un segment	
(TS) est une droite	
$[FE)$ est une demi-droite	
(KT) est une droite	
$[NM]$ est un segment	