


Exercice 1

Réaliser les figures suivantes :



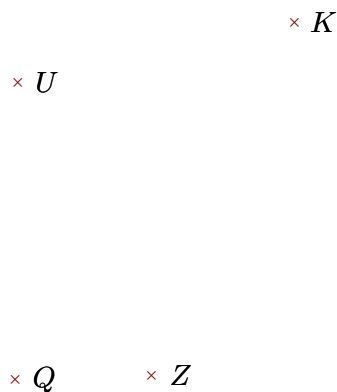
- ▶1. Tracer la droite parallèle à la droite (AW) passant par K
- ▶2. Tracer la droite perpendiculaire à la droite (FA) passant par W



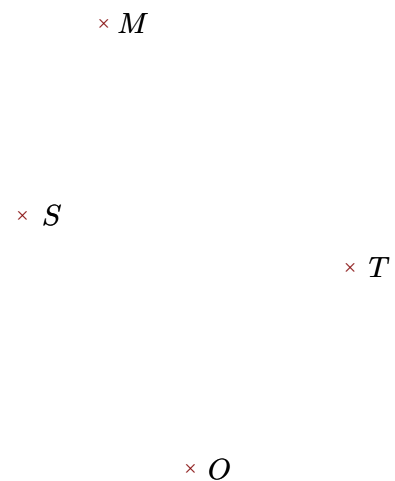
- ▶1. Tracer la droite parallèle à la droite (SZ) passant par J
- ▶2. Tracer la droite perpendiculaire à la droite (ZA) passant par J

Exercice 2

Réaliser les figures suivantes :



- ▶1. Tracer la droite perpendiculaire à la droite (ZU) passant par Q
- ▶2. Tracer la droite parallèle à la droite (UK) passant par Q



- ▶1. Tracer la droite perpendiculaire à la droite (SO) passant par T
- ▶2. Tracer la droite parallèle à la droite (OM) passant par T