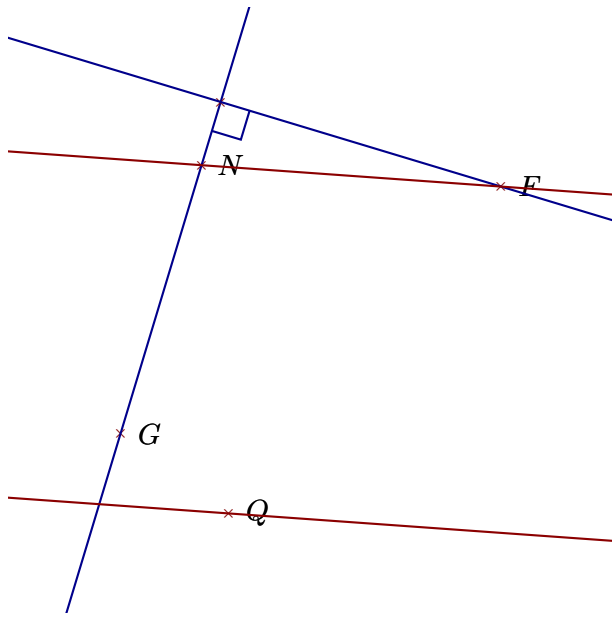
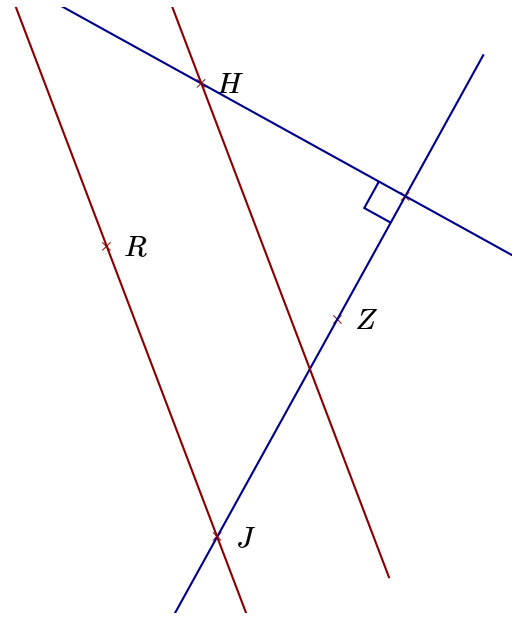


### Corrigé de l'exercice 1

Réaliser les figures suivantes :



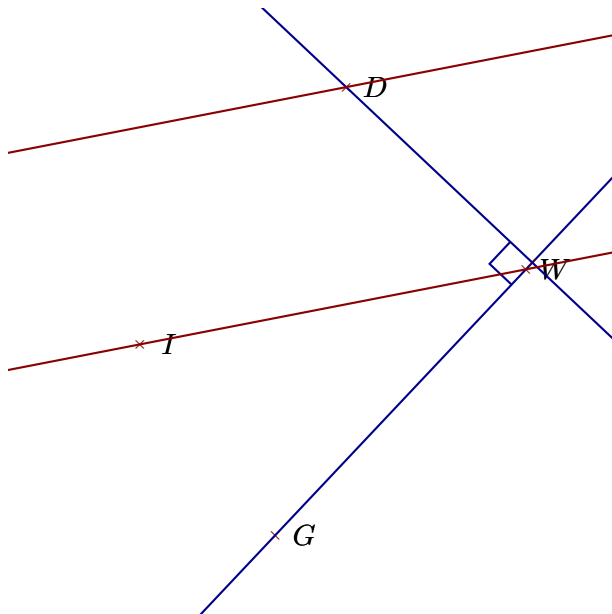
- 1. Tracer la droite perpendiculaire à la droite  $(GN)$  passant par  $F$
- 2. Tracer la droite parallèle à la droite  $(FN)$  passant par  $Q$



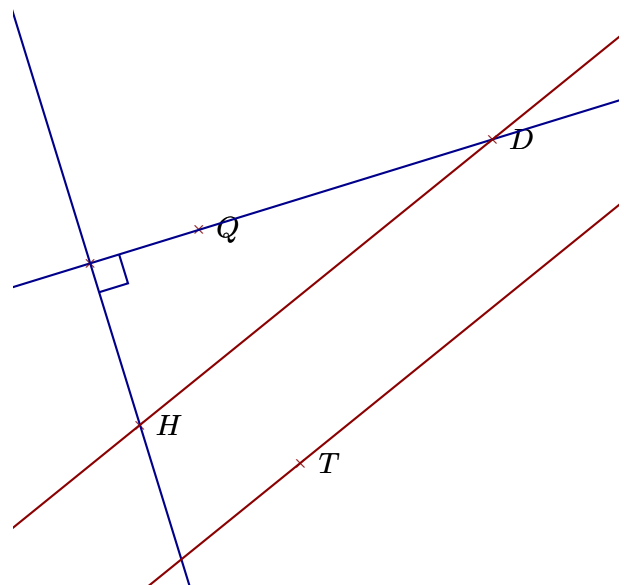
- 1. Tracer la droite perpendiculaire à la droite  $(JZ)$  passant par  $H$
- 2. Tracer la droite parallèle à la droite  $(JR)$  passant par  $H$

### Corrigé de l'exercice 2

Réaliser les figures suivantes :



- 1. Tracer la droite parallèle à la droite  $(WI)$  passant par  $D$
- 2. Tracer la droite perpendiculaire à la droite  $(GW)$  passant par  $D$



- 1. Tracer la droite perpendiculaire à la droite  $(DQ)$  passant par  $H$
- 2. Tracer la droite parallèle à la droite  $(HD)$  passant par  $T$