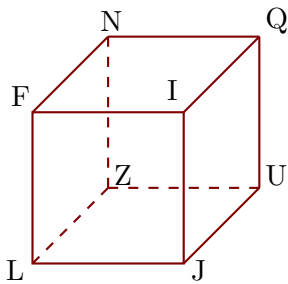


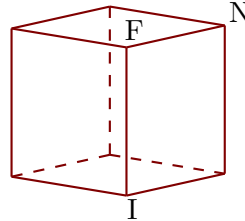
Exercice 1

Les figures 1 et 2 représentent le même cube FIJLNQUZ.

1



2

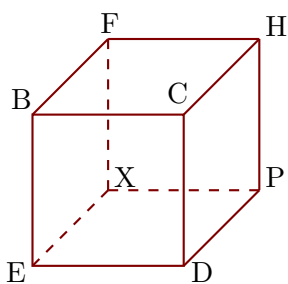


- 1. Compléter les sommets manquants de la figure 2.
- 2. Donner toutes les arêtes perpendiculaires à $[JU]$.
- 3. Donner toutes les arêtes parallèles à $[IJ]$.

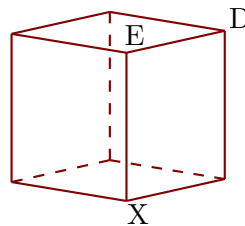
Exercice 2

Les figures 1 et 2 représentent le même cube BCDEFHPX.

1



2

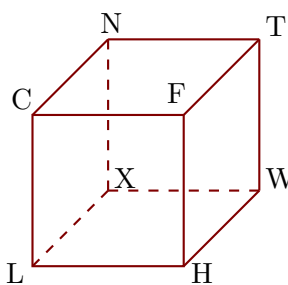


- 1. Compléter les sommets manquants de la figure 2.
- 2. Donner toutes les arêtes perpendiculaires à $[ED]$.
- 3. Donner toutes les arêtes parallèles à $[FH]$.

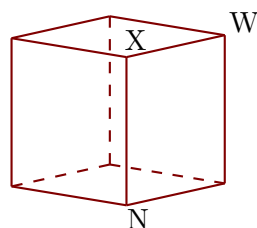
Exercice 3

Les figures 1 et 2 représentent le même cube CFHLNTWX.

1



2



- 1. Compléter les sommets manquants de la figure 2.
- 2. Donner toutes les arêtes perpendiculaires à $[HF]$.
- 3. Donner toutes les arêtes parallèles à $[CL]$.