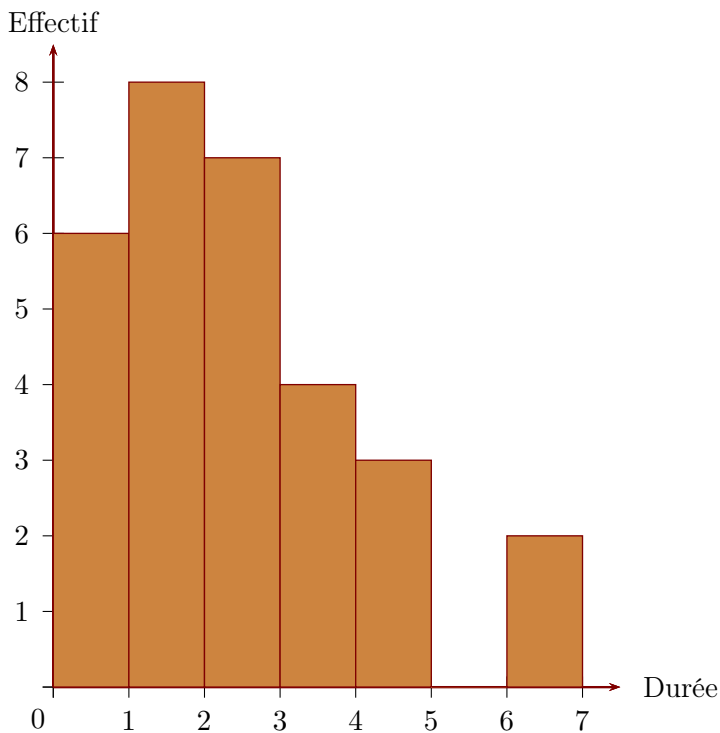


Corrigé de l'exercice 1

- 1. On a demandé aux élèves d'une classe de cinquième combien de temps par semaine était consacré à leur sport favori.

Durée t (en h)	$0 \leq t < 1$	$1 \leq t < 2$	$2 \leq t < 3$	$3 \leq t < 4$	$4 \leq t < 5$	$5 \leq t < 6$	$6 \leq t < 7$
Effectif	6	8	7	4	3	0	2

À partir de ce tableau, construire un histogramme pour représenter ces données.



Sur l'axe horizontal, on représente les durées en heures et, sur l'axe vertical, on représente les effectifs.

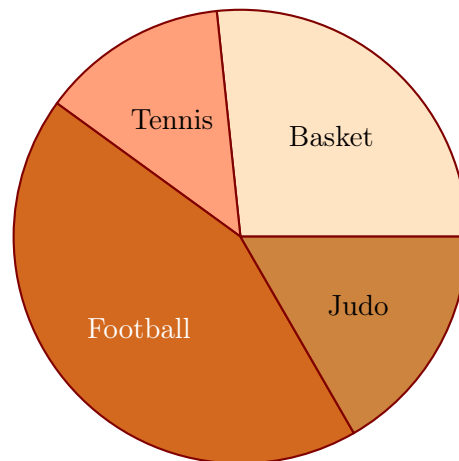
- 2. On a demandé aux élèves quel était leur sport préféré. 8 élèves préfèrent le basket-ball, 4 le tennis, 13 le football et 5 le judo. Construire un diagramme circulaire représentant cette répartition.

L'effectif total est égal à $8+4+13+5 = 30$. La mesure d'angle d'un secteur circulaire est proportionnelle à l'effectif du sport qu'il représente. Le coefficient de proportionnalité est égal au quotient de l'effectif total par 360° c'est à dire $360 \div 30 = 12$.

Sport favori	Basket-ball	Tennis	Football	Judo	Total
Effectif	8	4	13	5	30
Mesure (en degré)	96	48	156	60	360

×12

En utilisant les mesures d'angles obtenues dans le tableau de proportionnalité, on trace le diagramme circulaire.

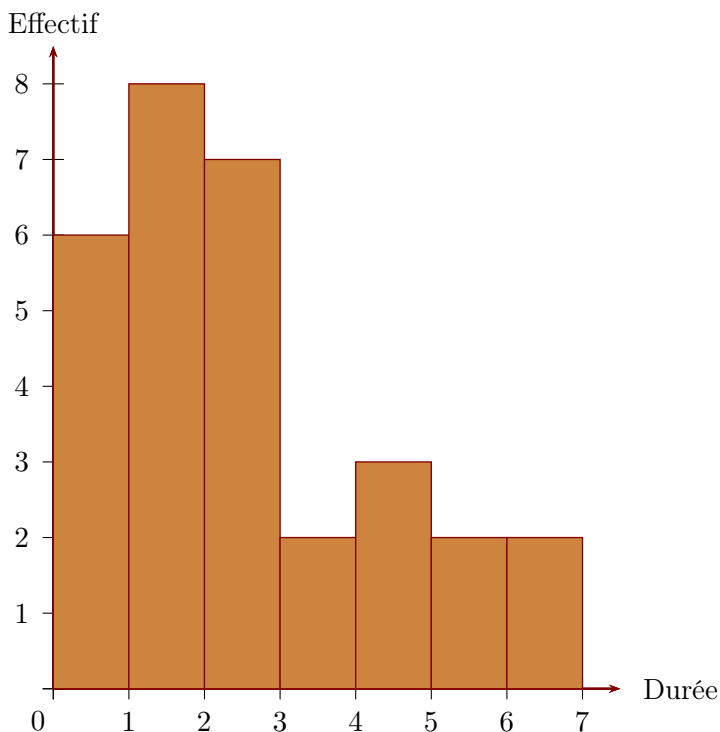


Corrigé de l'exercice 2

- 1. On a demandé aux élèves d'une classe de cinquième combien de temps par semaine était consacré à leur sport favori.

Durée t (en h)	$0 \leq t < 1$	$1 \leq t < 2$	$2 \leq t < 3$	$3 \leq t < 4$	$4 \leq t < 5$	$5 \leq t < 6$	$6 \leq t < 7$
Effectif	6	8	7	2	3	2	2

À partir de ce tableau, construire un histogramme pour représenter ces données.



Sur l'axe horizontal, on représente les durées en heures et, sur l'axe vertical, on représente les effectifs.

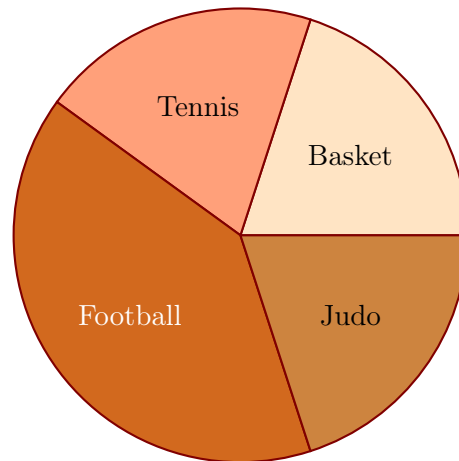
- 2. On a demandé aux élèves quel était leur sport préféré. 6 élèves préfèrent le basket-ball, 6 le tennis, 12 le football et 6 le judo. Construire un diagramme circulaire représentant cette répartition.

L'effectif total est égal à $6+6+12+6 = 30$. La mesure d'angle d'un secteur circulaire est proportionnelle à l'effectif du sport qu'il représente. Le coefficient de proportionnalité est égal au quotient de l'effectif total par 360° c'est à dire $360 \div 30 = 12$.

Sport favori	Basket-ball	Tennis	Football	Judo	Total
Effectif	6	6	12	6	30
Mesure (en degré)	72	72	144	72	360

} ×12

En utilisant les mesures d'angles obtenues dans le tableau de proportionnalité, on trace le diagramme circulaire.

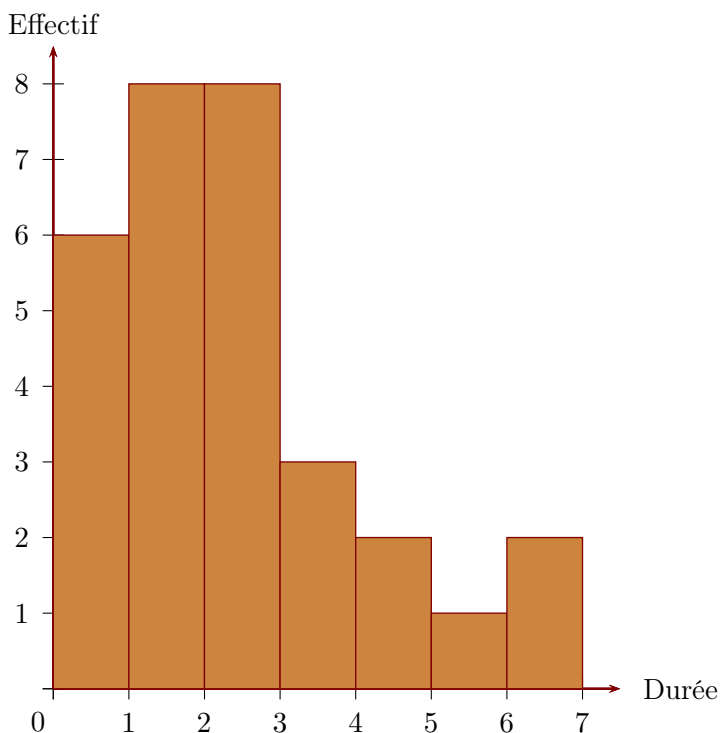


Corrigé de l'exercice 3

- 1. On a demandé aux élèves d'une classe de cinquième combien de temps par semaine était consacré à leur sport favori.

Durée t (en h)	$0 \leq t < 1$	$1 \leq t < 2$	$2 \leq t < 3$	$3 \leq t < 4$	$4 \leq t < 5$	$5 \leq t < 6$	$6 \leq t < 7$
Effectif	6	8	8	3	2	1	2

À partir de ce tableau, construire un histogramme pour représenter ces données.



Sur l'axe horizontal, on représente les durées en heures et, sur l'axe vertical, on représente les effectifs.

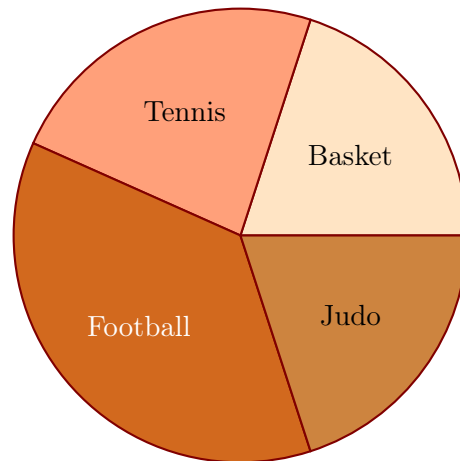
- 2. On a demandé aux élèves quel était leur sport préféré. 6 élèves préfèrent le basket-ball, 7 le tennis, 11 le football et 6 le judo. Construire un diagramme circulaire représentant cette répartition.

L'effectif total est égal à $6+7+11+6 = 30$. La mesure d'angle d'un secteur circulaire est proportionnelle à l'effectif du sport qu'il représente. Le coefficient de proportionnalité est égal au quotient de l'effectif total par 360° c'est à dire $360 \div 30 = 12$.

Sport favori	Basket-ball	Tennis	Football	Judo	Total
Effectif	6	7	11	6	30
Mesure (en degré)	72	84	132	72	360

} ×12

En utilisant les mesures d'angles obtenues dans le tableau de proportionnalité, on trace le diagramme circulaire.

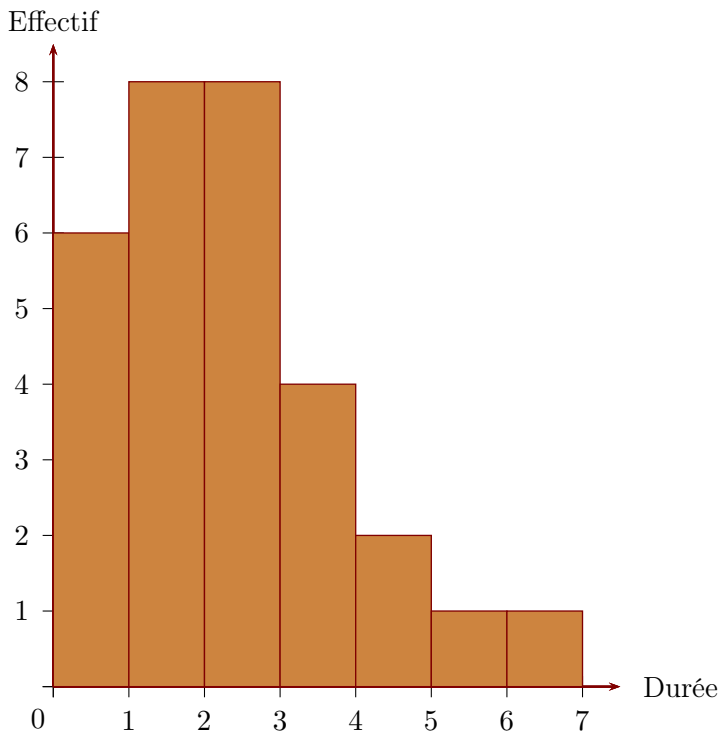


Corrigé de l'exercice 4

- 1. On a demandé aux élèves d'une classe de cinquième combien de temps par semaine était consacré à leur sport favori.

Durée t (en h)	$0 \leq t < 1$	$1 \leq t < 2$	$2 \leq t < 3$	$3 \leq t < 4$	$4 \leq t < 5$	$5 \leq t < 6$	$6 \leq t < 7$
Effectif	6	8	8	4	2	1	1

À partir de ce tableau, construire un histogramme pour représenter ces données.



Sur l'axe horizontal, on représente les durées en heures et, sur l'axe vertical, on représente les effectifs.

- 2. On a demandé aux élèves quel était leur sport préféré. 7 élèves préfèrent le basket-ball, 7 le tennis, 8 le football et 8 le judo. Construire un diagramme circulaire représentant cette répartition.

L'effectif total est égal à $7 + 7 + 8 + 8 = 30$. La mesure d'angle d'un secteur circulaire est proportionnelle à l'effectif du sport qu'il représente. Le coefficient de proportionnalité est égal au quotient de l'effectif total par 360° c'est à dire $360 \div 30 = 12$.

Sport favori	Basket-ball	Tennis	Football	Judo	Total
Effectif	7	7	8	8	30
Mesure (en degré)	84	84	96	96	360

] ×12

En utilisant les mesures d'angles obtenues dans le tableau de proportionnalité, on trace le diagramme circulaire.

