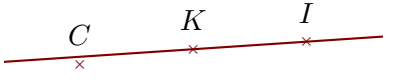

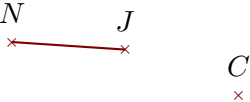
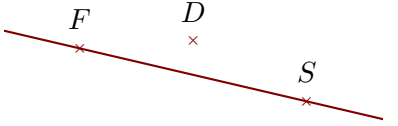
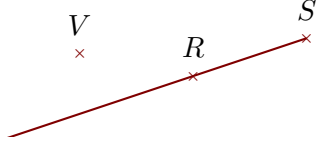


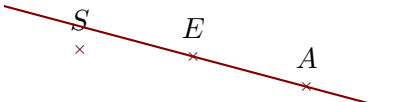
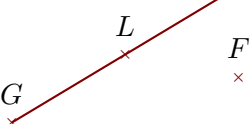
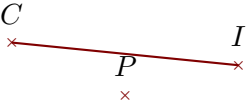
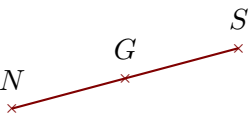
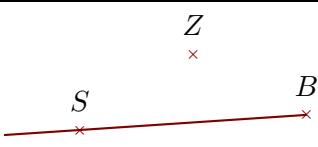
**Corrigé de l'exercice 1**

Compléter les pointillés et les figures :

Phrase	Figure
$(IK)$ est une droite	
$[TI]$ est un segment	
$[JN]$ est un segment	
$(FS)$ est une droite	
$[SR)$ est une demi-droite	

**Corrigé de l'exercice 2**

Compléter les pointillés et les figures :

Phrase	Figure
$(EA)$ est une droite	
$[GL)$ est une demi-droite	
$[IC)$ est un segment	
$[SN)$ est un segment	
$[BS)$ est une demi-droite	

**Corrigé de l'exercice 3**

Compléter les pointillés et les figures :

Phrase	Figure
$[WE]$ est un segment	
$[QR)$ est une demi-droite	
$[TV]$ est un segment	
$(YJ)$ est une droite	
$[WN)$ est une demi-droite	

**Corrigé de l'exercice 4**

Compléter les pointillés et les figures :

Phrase	Figure
$[MR)$ est une demi-droite	
$[KW)$ est une demi-droite	
$[VP]$ est un segment	
$(ZP)$ est une droite	
$(WS)$ est une droite	