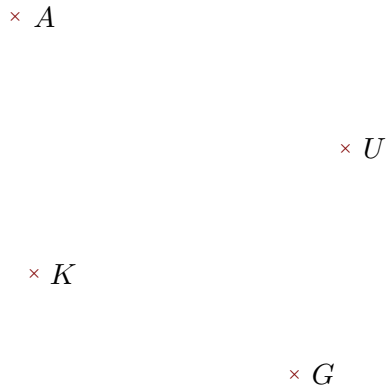



**Exercice 1**

Réaliser les figures suivantes :



- 1. Tracer la droite parallèle à la droite  $(UG)$  passant par  $K$
- 2. Tracer la droite perpendiculaire à la droite  $(UK)$  passant par  $A$




- 1. Tracer la droite parallèle à la droite  $(NH)$  passant par  $L$
- 2. Tracer la droite perpendiculaire à la droite  $(WN)$  passant par  $L$

**Exercice 2**

Réaliser les figures suivantes :



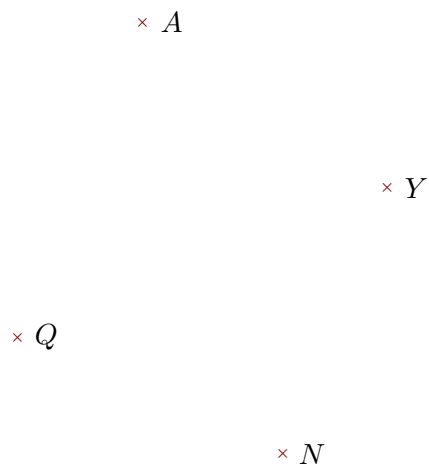
- 1. Tracer la droite perpendiculaire à la droite  $(MZ)$  passant par  $J$
- 2. Tracer la droite parallèle à la droite  $(ZJ)$  passant par  $F$




- 1. Tracer la droite perpendiculaire à la droite  $(XF)$  passant par  $N$
- 2. Tracer la droite parallèle à la droite  $(XN)$  passant par  $V$

**Exercice 3**

Réaliser les figures suivantes :



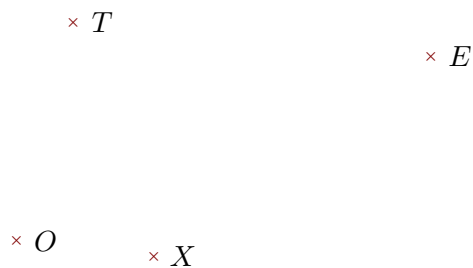
- 1. Tracer la droite parallèle à la droite  $(QN)$  passant par  $Y$
- 2. Tracer la droite perpendiculaire à la droite  $(QA)$  passant par  $N$



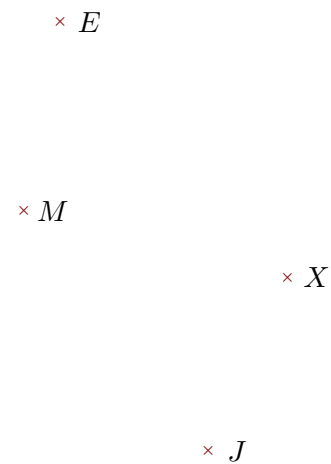
- 1. Tracer la droite parallèle à la droite  $(ZX)$  passant par  $J$
- 2. Tracer la droite perpendiculaire à la droite  $(JS)$  passant par  $X$

#### **Exercice 4**

Réaliser les figures suivantes :



- 1. Tracer la droite parallèle à la droite  $(XO)$  passant par  $E$
- 2. Tracer la droite perpendiculaire à la droite  $(EX)$  passant par  $O$



- 1. Tracer la droite parallèle à la droite  $(MX)$  passant par  $E$
- 2. Tracer la droite perpendiculaire à la droite  $(EJ)$  passant par  $M$