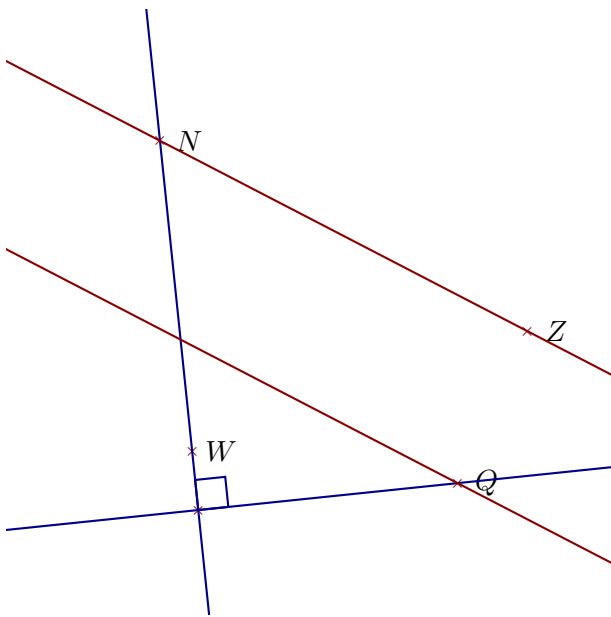
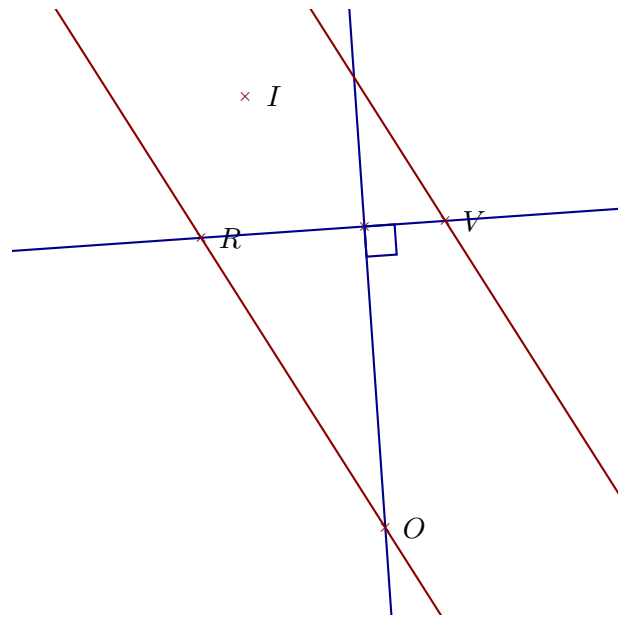


**Corrigé de l'exercice 1**

Réaliser les figures suivantes :



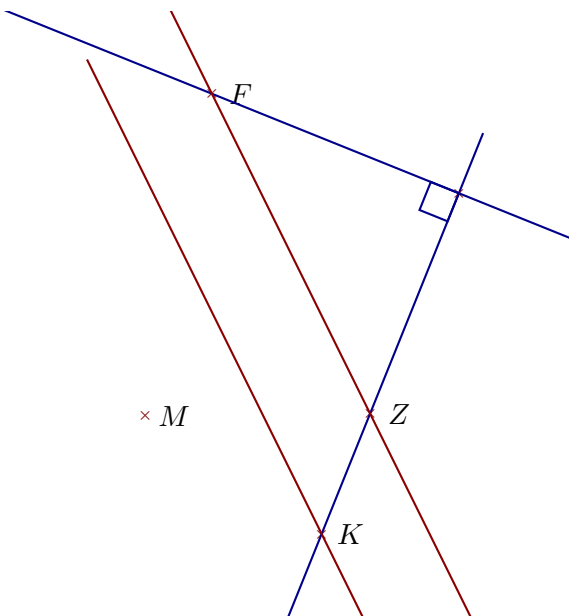
- 1. Tracer la droite perpendiculaire à la droite  $(WN)$  passant par  $Q$
- 2. Tracer la droite parallèle à la droite  $(NZ)$  passant par  $Q$



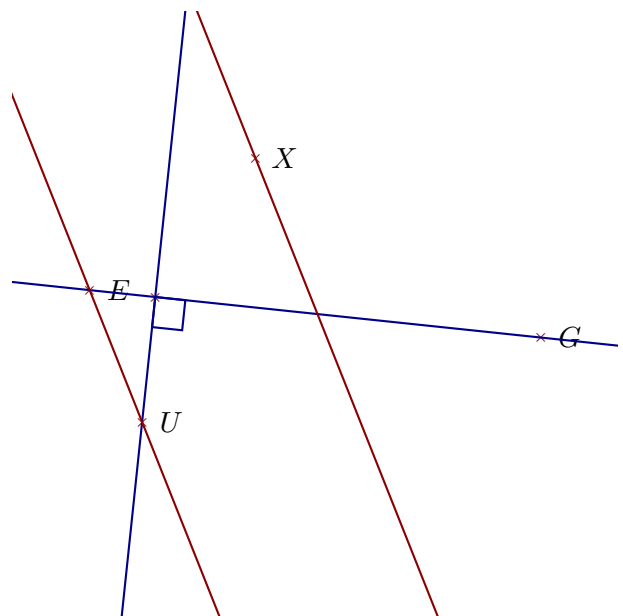
- 1. Tracer la droite parallèle à la droite  $(RO)$  passant par  $V$
- 2. Tracer la droite perpendiculaire à la droite  $(VR)$  passant par  $O$

**Corrigé de l'exercice 2**

Réaliser les figures suivantes :



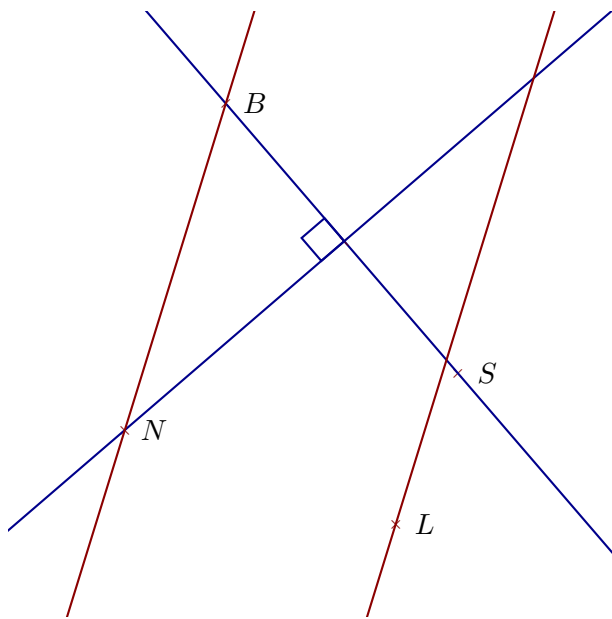
- 1. Tracer la droite perpendiculaire à la droite  $(ZK)$  passant par  $F$
- 2. Tracer la droite parallèle à la droite  $(FZ)$  passant par  $K$



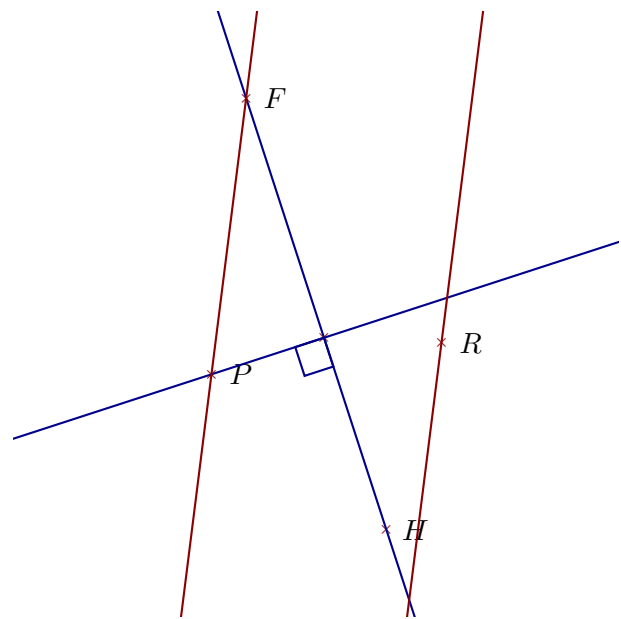
- 1. Tracer la droite parallèle à la droite  $(UE)$  passant par  $X$
- 2. Tracer la droite perpendiculaire à la droite  $(GE)$  passant par  $U$

**Corrigé de l'exercice 3**

Réaliser les figures suivantes :



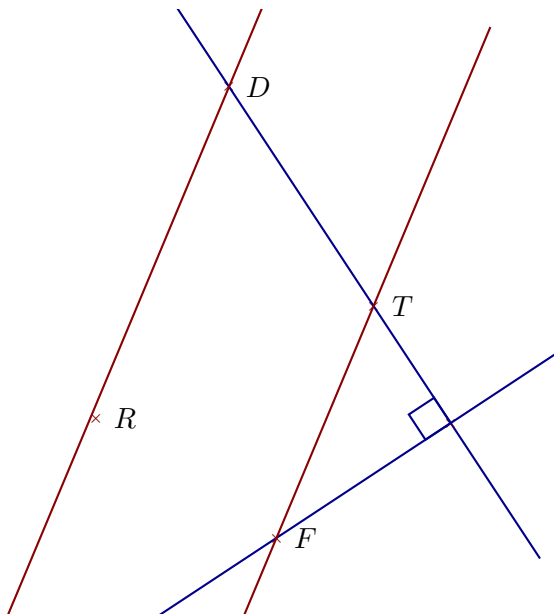
- 1. Tracer la droite parallèle à la droite  $(NB)$  passant par  $L$
- 2. Tracer la droite perpendiculaire à la droite  $(BS)$  passant par  $N$



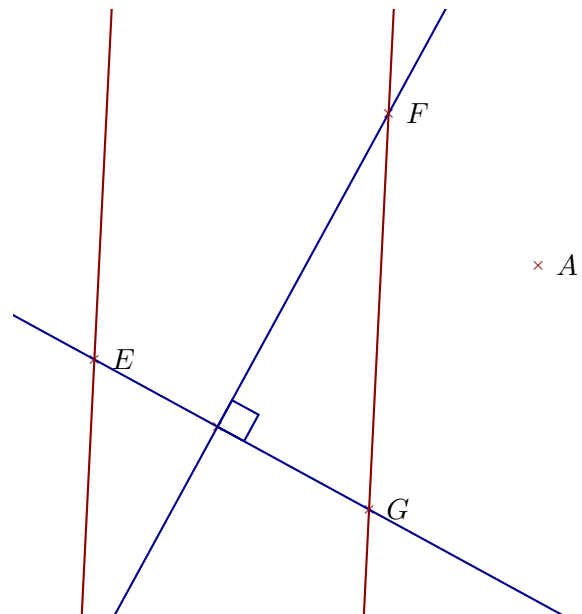
- 1. Tracer la droite parallèle à la droite  $(PF)$  passant par  $R$
- 2. Tracer la droite perpendiculaire à la droite  $(HF)$  passant par  $P$

#### Corrigé de l'exercice 4

Réaliser les figures suivantes :



- 1. Tracer la droite parallèle à la droite  $(TF)$  passant par  $D$
- 2. Tracer la droite perpendiculaire à la droite  $(TD)$  passant par  $F$



- 1. Tracer la droite parallèle à la droite  $(FG)$  passant par  $E$
- 2. Tracer la droite perpendiculaire à la droite  $(GE)$  passant par  $F$