
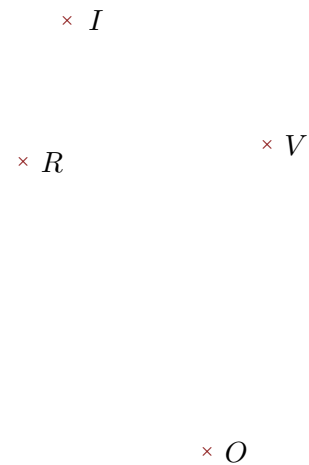


Exercice 1

Réaliser les figures suivantes :



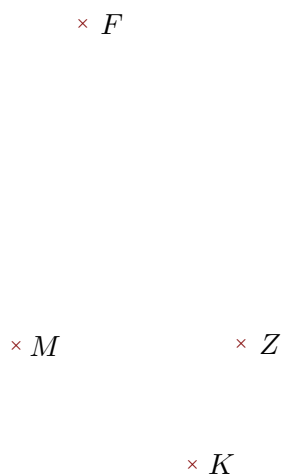
- 1. Tracer la droite perpendiculaire à la droite (WN) passant par Q
- 2. Tracer la droite parallèle à la droite (NZ) passant par Q



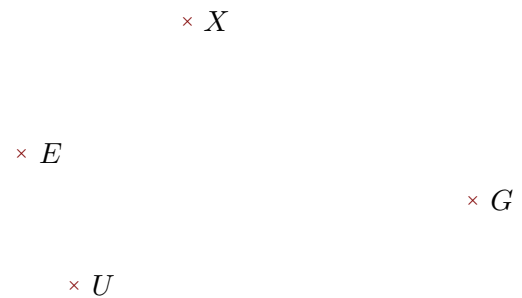
- 1. Tracer la droite parallèle à la droite (RO) passant par V
- 2. Tracer la droite perpendiculaire à la droite (VR) passant par O

Exercice 2

Réaliser les figures suivantes :



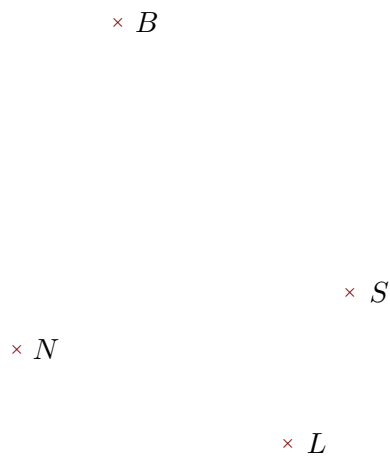
- 1. Tracer la droite perpendiculaire à la droite (ZK) passant par F
- 2. Tracer la droite parallèle à la droite (FZ) passant par K



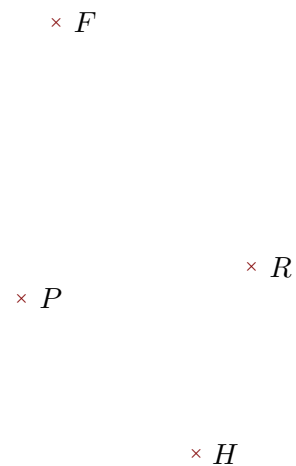
- 1. Tracer la droite parallèle à la droite (UE) passant par X
- 2. Tracer la droite perpendiculaire à la droite (GE) passant par U

Exercice 3

Réaliser les figures suivantes :



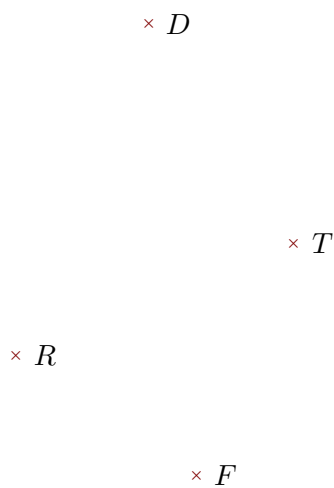
- 1. Tracer la droite parallèle à la droite (NB) passant par L
- 2. Tracer la droite perpendiculaire à la droite (BS) passant par N




- 1. Tracer la droite parallèle à la droite (PF) passant par R
- 2. Tracer la droite perpendiculaire à la droite (HF) passant par P

Exercice 4

Réaliser les figures suivantes :



- 1. Tracer la droite parallèle à la droite (TF) passant par D
- 2. Tracer la droite perpendiculaire à la droite (TD) passant par F



- 1. Tracer la droite parallèle à la droite (FG) passant par E
- 2. Tracer la droite perpendiculaire à la droite (GE) passant par F