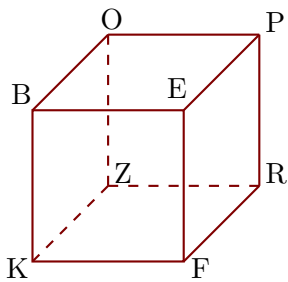


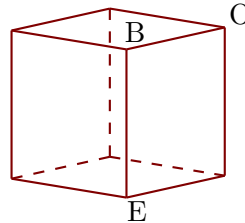
Exercice 1

Les figures 1 et 2 représentent le même cube BEFKOPRZ.

1



2

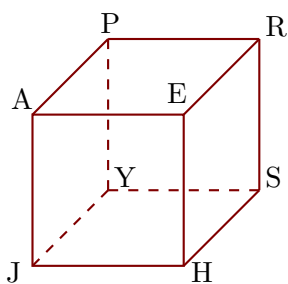


- 1. Compléter les sommets manquants de la figure 2.
- 2. Donner toutes les arêtes perpendiculaires à $[OB]$.
- 3. Donner toutes les arêtes parallèles à $[BO]$.

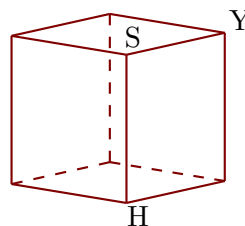
Exercice 2

Les figures 1 et 2 représentent le même cube AEHJPRSY.

1



2

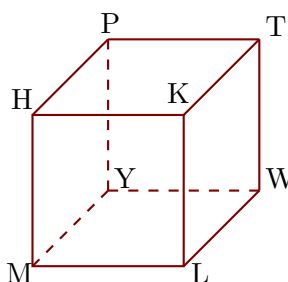


- 1. Compléter les sommets manquants de la figure 2.
- 2. Donner toutes les arêtes perpendiculaires à $[HE]$.
- 3. Donner toutes les arêtes parallèles à $[EH]$.

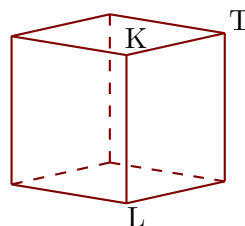
Exercice 3

Les figures 1 et 2 représentent le même cube HKLMPTWY.

1



2



- 1. Compléter les sommets manquants de la figure 2.
- 2. Donner toutes les arêtes perpendiculaires à $[PY]$.
- 3. Donner toutes les arêtes parallèles à $[MH]$.